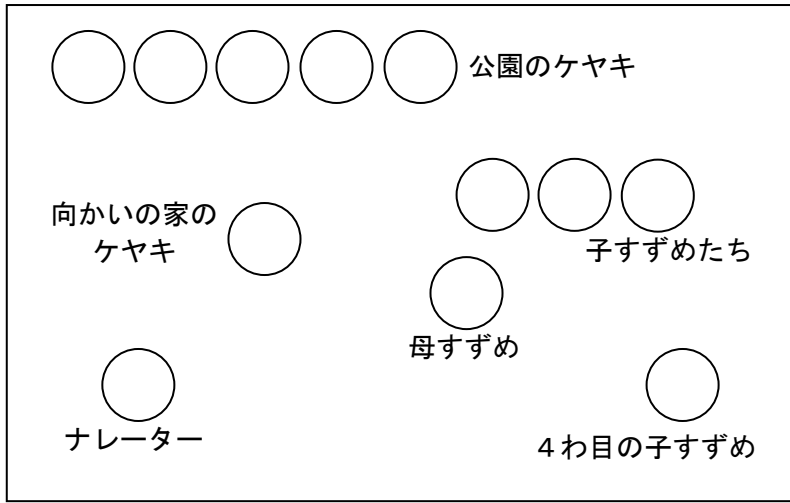
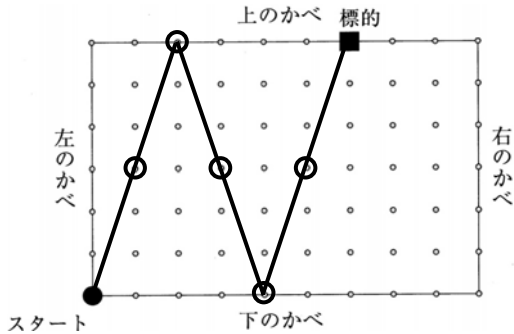
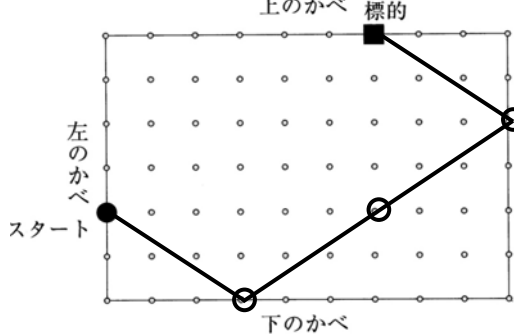


解答例
適性検査 I

1	【問題1】			15点		
	【問題2】	①サワサワ 4わ目の子すずめを、やさしくはげまそうとしていること。		5点		
	【問題2】	②ザワザワザワッ 今こそ飛び立つタイミングだということ。		5点		
	【問題3】	魚かい類を食べる量が減っている。		10点		
	【問題4】	変化の量大きいグループ	「40歳 <small>さい</small> から49歳」のグループ	15点		
【問題4】	選んだ理由	他のグループに比べて、グラフが横に長くなっているので、魚かい類を食べている量の変化が大きいと考えたから。				
2	【問題1】		【問題2】		10点	15点
	【問題3】	ひろしさん (き数)	あきこさん (ぐう数)	そう考えた理由 5まいのうちぐう数は2まいしかないの、ひろしさんとあきこさんが2人ともぐう数のときだけ、ジョンさんは自分がき数だと分かる。ジョンさんが分からないということは、ひろしさんとあきこさんのどちらかはき数であるから。		15点
	【問題4】	ひろしさん (ぐう数)	あきこさん (き数)			10点
	【問題4】	ジョンさん (き数)				

適性検査 II

省略
